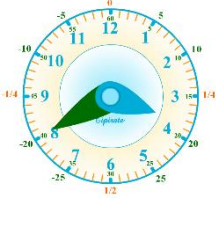
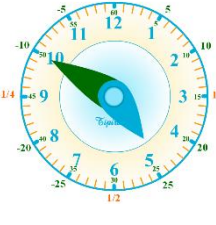

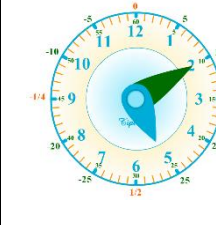
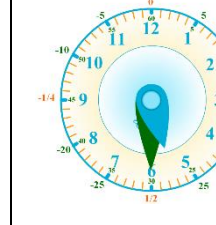


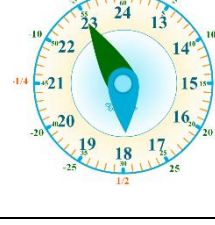
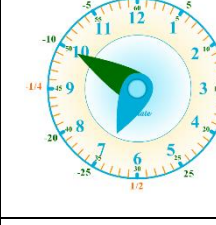
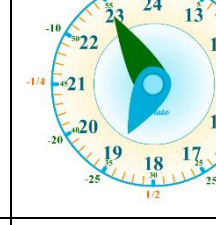
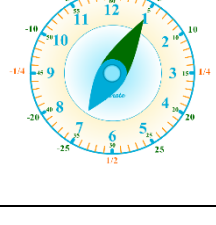

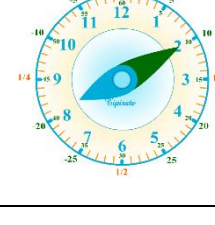
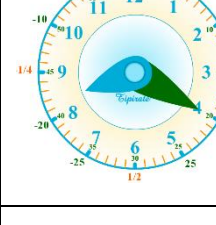
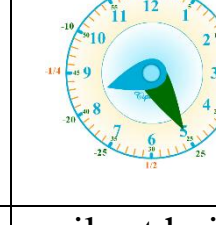



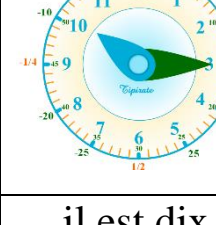
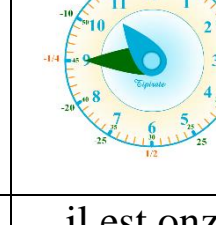

il est onze heures cinq	il est deux heures dix	il est trois heures moins dix	il est trois heures et demie	il est quatre heures moins vingt-cinq
				
il est quatre heures moins vingt	il est cinq heures moins dix	il est cinq heures moins cinq	il est cinq heures dix	il est cinq heures et demie
				
il est six heures moins vingt-cinq	il est six heures moins le quart	il est six heures moins cinq	il est sept heures moins dix	il est sept heures moins cinq
				
il est sept heures cinq	il est sept heures vingt	il est huit heures dix	il est huit heures vingt	il est huit heures vingt-cinq
				
il est dix heures moins vingt-cinq	il est dix heures moins cinq	il est onze heures moins cinq	il est dix heures et quart	il est onze heures moins le quart

Quelle heure est-il?

